

Олимпиада «Физтех» по физике, февраль 2020

Класс 10

Вариант 10-01

Шифр

(заполняется секретарём)

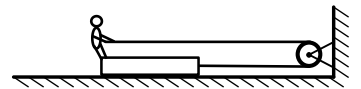
Бланк задания обязательно должен быть вложен в работу. Работы без вложенного задания не проверяются.

1. Камень бросают с вышки со скоростью $V_0 = 8$ м/с под углом $\alpha = 60^\circ$ к горизонту. В полете камень все время приближался к горизонтальной поверхности Земли и упал на нее со скоростью $2,5V_0$.

- 1) Найти вертикальную компоненту скорости камня при падении на Землю.
- 2) Найти время полета камня.
- 3) Найти горизонтальное смещение камня за время полета.

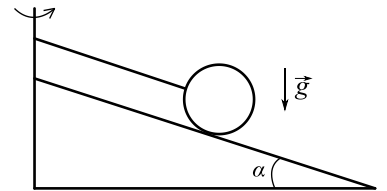
Ускорение свободного падения принять $g = 10$ м/с². Сопротивление воздуха не учитывать.

2. Человеку, упирающемуся в ящик ногами, надо передвинуть ящик из состояния покоя по горизонтальному полу на расстояние S к стене (см. рис.). Массы человека и ящика равны соответственно m и $M = 5m$. Натянутые части каната, не соприкасающиеся с блоком, горизонтальны. Массами каната, блока и трением в оси блока можно пренебречь. Коэффициент трения между ящиком и полом μ .



- 1) С какой силой ящик с человеком давят на пол при движении ящика?
- 2) С какой минимальной постоянной силой F_0 надо тянуть человеку канат, чтобы осуществить задуманное?
- 3) Какой скорости достигнет ящик, если человек осуществит задуманное, приложив постоянную силу F ($F > F_0$) к канату?

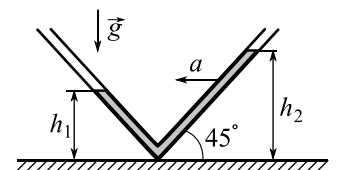
3. Однородный шар массой m и радиусом R находится на гладкой поверхности клина, наклоненной под углом α к горизонту (см. рис.). Шар удерживается нитью длиной L , привязанной к вертикальной оси, проходящей через вершину клина. Нить параллельна поверхности клина.



- 1) Найти силу натяжения нити, если система покоится.
- 2) Найти силу натяжения нити, если система вращается с угловой скоростью ω вокруг вертикальной оси, проходящей через вершину клина, а шар не отрывается от клина.

4. Трубка, изогнутая под прямым углом, расположена в вертикальной плоскости и заполнена маслом (см. рис.). Угол $\alpha = 45^\circ$. При равноускоренном движении трубки в горизонтальном направлении уровни масла в коленях трубки устанавливаются на высотах $h_1 = 8$ см и $h_2 = 12$ см.

- 1) Найдите ускорение a трубки.
- 2) С какой максимальной скоростью V будет двигаться жидкость относительно трубки после того как трубка внезапно станет двигаться равномерно (ускорение «исчезнет»)?



Ускорение свободного падения $g = 10$ м/с². Действие сил трения пренебрежимо мало.

5. В цилиндрическом сосуде под поршнем находится насыщенный водяной пар при температуре 95°C и давлении $P = 8,5 \cdot 10^4$ Па. В медленном изотермическом процессе уменьшения объема пар начинает конденсироваться, превращаясь в воду.

- 1) Найти отношение плотности пара к плотности воды в условиях опыта.
- 2) Найти отношение объема пара к объему воды к моменту, когда объем пара уменьшится в $\gamma = 4,7$ раза.

Плотность и молярная масса воды $\rho = 1$ г/см³, $\mu = 18$ г/моль.

Олимпиада «Физтех» по физике, февраль 2020

Класс 10

Вариант 10-02

Шифр

(заполняется секретарём)

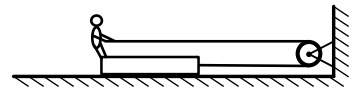
Бланк задания обязательно должен быть вложен в работу. Работы без вложенного задания не проверяются.

1. Гайку бросают с вышки со скоростью $V_0 = 10$ м/с под углом $\alpha = 30^\circ$ к горизонту. В полете гайка все время приближалась к горизонтальной поверхности Земли и упала на нее со скоростью $2V_0$.

- 1) Найти вертикальную компоненту скорости гайки при падении на Землю.
- 2) Найти время полета гайки.
- 3) С какой высоты была брошена гайка?

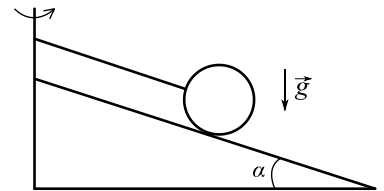
Ускорение свободного падения принять $g = 10$ м/с². Сопротивление воздуха не учитывать.

2. Человеку, упирающемуся в ящик ногами, надо передвинуть ящик из состояния покоя по горизонтальному полу на расстояние S к стене (см. рис.). Массы человека и ящика равны соответственно m и $M = 2m$. Натянутые части каната, не соприкасающиеся с блоком, горизонтальны. Массами каната, блока и трением в оси блока можно пренебречь. Коэффициент трения между ящиком и полом μ .



- 1) С какой силой ящик с человеком давят на пол при движении ящика?
- 2) С какой минимальной постоянной силой F_0 надо тянуть человеку канат, чтобы осуществить задуманное?
- 3) За какое время человек осуществит задуманное, приложив постоянную силу F ($F > F_0$) к канату?

3. Однородный шар массой m и радиусом R находится на гладкой поверхности клина, наклоненной под углом α к горизонту (см. рис.). Шар удерживается нитью длиной L , привязанной к вертикальной оси, проходящей через вершину клина. Нить параллельна поверхности клина.

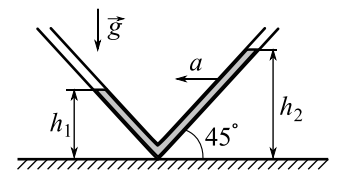


- 1) Найти силу давления шара на клин, если система покоится.
- 2) Найти силу давления шара на клин, если система вращается с угловой скоростью ω вокруг вертикальной оси, проходящей через вершину клина, а шар не отрывается от клина.

4. Трубка, изогнутая под прямым углом, расположена в вертикальной плоскости и заполнена маслом (см. рис.). Угол $\alpha = 45^\circ$. При равноускоренном движении трубки в горизонтальном направлении с ускорением $a = 4$ м/с² уровень масла в одном из колен трубки устанавливается на высоте $h_1 = 10$ см.

- 1) На какой высоте h_2 установится уровень масла в другом колене?
- 2) С какой скоростью V будет двигаться жидкость в трубке относительно трубки после того как трубка внезапно станет двигаться равномерно (ускорение «исчезнет») и когда уровни масла будут находиться на одинаковой высоте?

Ускорение свободного падения $g = 10$ м/с². Действие сил трения пренебрежимо мало.



5. В цилиндрическом сосуде под поршнем находится насыщенный водяной пар при температуре 27°C и давлении $P = 3,55 \cdot 10^3$ Па. В медленном изотермическом процессе уменьшения объема пар начинает конденсироваться, превращаясь в воду.

- 1) Найти отношение плотности пара к плотности воды в условиях опыта.
- 2) Найти отношение объема пара к объему воды к моменту, когда объем пара уменьшится в $\gamma = 5,6$ раза.

Плотность и молярная масса воды $\rho = 1$ г/см³, $\mu = 18$ г/моль.

Олимпиада «Физтех» по физике, февраль 2020

Класс 10

Вариант 10-03

Шифр

(заполняется секретарём)

Бланк задания обязательно должен быть вложен в работу. Работы без вложенного задания не проверяются.

1. Мальчик бросает стальной шарик с вышки со скоростью $V_0 = 10$ м/с под углом $\alpha = 30^\circ$ к горизонту. В полете шарик все время приближался к горизонтальной поверхности Земли и упал на нее со скоростью $2V_0$.

- 1) Найти вертикальную компоненту скорости шарика при падении на Землю.
- 2) Найти время полета шарика.
- 3) С какой высоты был брошен шарик?

Ускорение свободного падения принять $g = 10$ м/с². Сопротивление воздуха не учитывать.

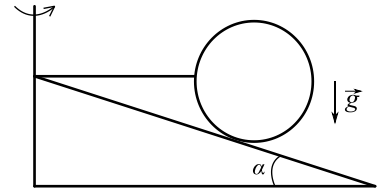
2. На противоположных концах тележки массы M , находящейся на гладкой горизонтальной поверхности, стоят два ученика одинаковой массы m каждый. Длина тележки L . Вначале система неподвижна. Один ученик бросает мяч, а другой ловит. Масса мяча m_1 . В процессе полета горизонтальная составляющая скорости мяча относительно поверхности, на которой находится тележка, равна V_0 .

- 1) Найдите скорость V_1 тележки после броска.
- 2) Найдите продолжительность T полета мяча.
- 3) Найдите скорость V_2 тележки после того, как второй ученик поймает мяч.

Силу сопротивления воздуха считайте пренебрежимо малой.

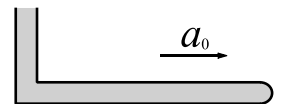
3. Однородный шар массой m находится на гладкой поверхности клина, наклоненной под углом α к горизонту (см. рис.). Шар удерживается горизонтально натянутой нитью длиной L , привязанной к вершине клина.

- 1) Найти силу натяжения нити, если система покоится.
- 2) Найти силу натяжения нити, если система вращается с угловой скоростью ω вокруг вертикальной оси, проходящей через вершину клина.



4. Тонкая Г-образная трубка с горизонтальным коленом, закрытым с одного конца, и вертикальным коленом высотой $H = 40$ мм, открытым в атмосферу, заполнена полностью ртутью (см. рис.). Если трубку двигать (в плоскости рисунка) с ускорением, не большим некоторого a_0 , то ртуть из трубки не выливается.

- 1) Найти давление P_1 внутри трубки в точке А, находящейся от вертикального колена на расстоянии $1/3$ длины горизонтального колена, если трубка движется с ускорением a_0 .
- 2) Найти давление P_2 в точке А, если трубка движется с ускорением $0,6a_0$.
- 3) Найти давление P_3 вблизи закрытого конца трубки, если она движется с ускорением $0,8a_0$.



Атмосферное давление $P_0 = 740$ мм рт. ст. Давлением насыщенных паров ртути в условиях опыта пренебречь. Ответы дать в «мм рт. ст.».

5. Поршень делит объем горизонтального герметичного цилиндра на две равные части, в каждой из которых находится вода и водяной пар при температуре $T = 373$ К. Масса воды в каждой части в 5 раз меньше массы пара. Поршень находится на расстоянии $L = 0,6$ м от торцов, площадь поперечного сечения поршня

$S = 20$ см². Масса M поршня такова, что $\frac{Mg}{S} = 0,01P_0$, здесь P_0 – нормальное атмосферное давление.

- 1) Найдите массу m воды в каждой части в начальном состоянии.
- 2) Цилиндр ставят на дно. Найдите вертикальное перемещение h поршня к моменту установления равновесного состояния.

Температура в цилиндре поддерживается постоянной. Трение считайте пренебрежимо малым. Молярная масса водяного пара $\mu = 18$ г/моль, универсальная газовая постоянная $R = 8,31$ Дж/(моль·К). Объем воды намного меньше объема пара.

Олимпиада «Физтех» по физике, февраль 2020

Класс 10

Вариант 10-04

Шифр

(заполняется секретарём)

Бланк задания обязательно должен быть вложен в работу. Работы без вложенного задания не проверяются.

1. Мальчик бросает железный шарик с вышки со скоростью $V_0 = 8$ м/с под углом $\alpha = 60^\circ$ к горизонту. В полете шарик все время приближался к горизонтальной поверхности Земли и упал на нее со скоростью $2,5V_0$.

- 1) Найти вертикальную компоненту скорости шарика при падении на Землю.
- 2) Найти время полета шарика.
- 3) Найти горизонтальное смещение шарика за время полета.

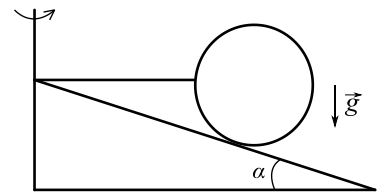
Ускорение свободного падения принять $g = 10$ м/с². Сопротивление воздуха не учитывать.

2. На противоположных концах тележки массы M , находящейся на гладкой горизонтальной поверхности, стоят два ученика одинаковой массы m каждый. Вначале система неподвижна. Один ученик бросает мяч, а другой ловит. Масса мяча m_1 . После броска тележка движется со скоростью V_1 . Продолжительность полета мяча T . Силу сопротивления воздуха считайте пренебрежимо малой.

- 1) Найдите горизонтальную проекцию V_0 скорости мяча (относительно поверхности, на которой находится тележка) в процессе полета.
- 2) Найдите длину L тележки.
- 3) Найдите скорость V_2 тележки после того, как второй ученик поймает мяч.

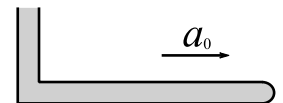
3. Однородный шар массой m и радиусом R находится на гладкой поверхности клина, наклоненной под углом α к горизонту (см. рис.). Шар удерживается горизонтально натянутой нитью, привязанной к вершине клина.

- 1) Найти силу натяжения нити, если система покоится.
- 2) Найти силу натяжения нити, если система вращается с угловой скоростью ω вокруг вертикальной оси, проходящей через вершину клина.



4. Тонкая Г-образная трубка с горизонтальным коленом, закрытым с одного конца, и вертикальным коленом высотой $H = 48$ мм, открытым в атмосферу, заполнена полностью ртутью (см. рис.). Если трубку двигать (в плоскости рисунка) с ускорением, не большим некоторого a_0 , то ртуть из трубки не выливается.

- 1) Найти давление P_1 внутри трубки в точке А, находящейся от вертикального колена на расстоянии $1/2$ длины горизонтального колена, если трубка движется с ускорением a_0 .
- 2) Найти давление P_2 в точке А, если трубка движется с ускорением $0,25a_0$.
- 3) Найти давление P_3 вблизи закрытого конца трубки, если она движется с ускорением $0,3a_0$.



Атмосферное давление $P_0 = 752$ мм рт. ст. Давлением насыщенных паров ртути в условиях опыта пренебречь. Ответы дать в «мм рт. ст.».

5. Поршень делит объем горизонтального герметичного цилиндра на две равные части, в каждой из которых находится вода и водяной пар при температуре $T = 373$ К. Масса воды в каждой части в 4 раза меньше массы пара. Поршень находится на расстоянии $L = 0,4$ м от торцов, площадь поперечного сечения поршня

$S = 25$ см². Масса M поршня такова, что $\frac{Mg}{S} = 0,02P_0$, здесь P_0 – нормальное атмосферное давление.

- 1) Найдите массу m воды в каждой части в начальном состоянии.
- 2) Цилиндр ставят на дно (ось цилиндра вертикальна). Найдите приращение Δm массы воды под поршнем к моменту установления равновесного состояния.

Температура в цилиндре поддерживается постоянной. Трение считайте пренебрежимо малым. Молярная масса водяного пара $\mu = 18$ г/моль, универсальная газовая постоянная $R = 8,31$ Дж/(моль·К). Объем воды намного меньше объема пара.